

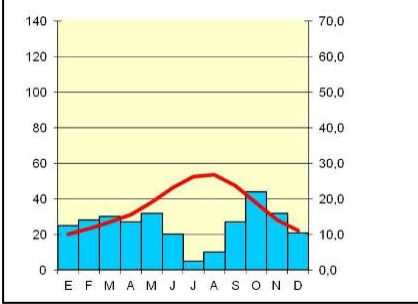
X OLIMPIADA DE GEOGRAFÍA
COMUNIDAD AUTÓNOMA DE LA REGIÓN DE MURCIA
28 FEBRERO 2020

Nombre: _____ DNI: _____

Centro: _____

<p>1. La orogenia alpina se produjo durante la Era:</p> <ul style="list-style-type: none">a) Primariab) Terciariac) Secundariad) Cuaternaria	<p>2. El estado de la atmósfera en un lugar y momento determinado se llama:</p> <ul style="list-style-type: none">a) tiempo atmosféricob) climac) estación meteorológicad) estación
<p>3. Las Sierras Interiores de la Meseta son:</p> <ul style="list-style-type: none">a) Sistema Central y Sistema Ibéricob) Sierra Morena y Sistema Ibéricoc) Sierra Morena y Montes de Toledod) Montes de Toledo y Sistema Central	<p>4. La cuenca hidrográfica más extensa de la Península es la del río</p> <ul style="list-style-type: none">a) Tajob) Guadalquivirc) Duerod) Miño
<p>5.- _____ son barras de arena que unen islotes rocosos a la costa</p> <ul style="list-style-type: none">a) Los deltasb) Las marismasc) Las ríasd) Los tómbolos	<p>6.- La precipitación media anual en España es de:</p> <ul style="list-style-type: none">a) 1.200 mm/m²c) 660 mm/m²b) 150 mm/m²d) 2.400 mm/m²
<p>7. Las isoyetas son aquellas líneas que unen puntos con la misma:</p> <ul style="list-style-type: none">a) presión atmosféricab) temperaturac) Insolación Anuald) Precipitación	<p>8. ¿Qué son las heladas negras?</p> <ul style="list-style-type: none">a) Heladas secas sin escarchab) Heladas con mucha escarcha.c) Heladas entre 0 y 5°C.d) b y c son correctas.
<p>9.- _____ giran en el sentido contrario a las agujas del reloj.</p> <ul style="list-style-type: none">a) Los Anticiclonesb) Las Borrascasc) Las Corrientes en Chorrod) todas son correctas	<p>10. ¿Qué río no pertenece a la vertiente Atlántica?</p> <ul style="list-style-type: none">a) Turiab) Guadinac) Guadalquivird) Duero
<p>11.-Las dolinas se asocian a litologías:</p> <ul style="list-style-type: none">a) Metamórficas	<p>12. El instrumento que registra la presión atmosférica se llama:</p>


X OLIMPIADA DE GEOGRAFÍA
 COMUNIDAD AUTÓNOMA DE LA REGIÓN DE MURCIA
 28 FEBRERO 2020

<p>b) Calizas c) Arenosas d) Graníticas</p>	<p>a) Termómetro b) Barómetro c) Higrómetro d) Pluviómetro</p>
<p>13. Los paralelos y meridianos miden respectivamente:</p> <p>a) latitud y longitud b) longitud y latitud c) altitud y latitud d) latitud y altitud</p>	<p>14. La _____ es la diferencia entre la temperatura máxima y mínima de un lugar:</p> <p>a) temperatura extrema b) amplitud térmica c) pauta de rocío d) temperatura media</p>
<p>15. El gráfico de la izquierda representa un clima:</p> 	<p>a) oceánico b) semiárido c) desértico d) continental</p>
	<p>16. Los valles en forma de U son característicos de la erosión:</p> <p>a) fluvial b) eólica c) térmica d) glaciar</p>
<p>17. La unidad internacional de medida de la presión atmosférica es:</p> <p>a) Pascal b) Hectopascal b) Atmósfera d) Hectárea</p>	<p>18. Son formas típicas de erosión marina:</p> <p>a) playas, uvalas, dolinas b) playas, tómbolos, uvalas c) uvalas, acantilados, playas d) playas, rasas, acantilados</p>
<p>19. El horizonte superficial de un suelo se denomina:</p> <p>a) horizonte 1 b) horizonte alto c) horizonte de arriba d) horizonte A</p>	<p>20. Las islas del Mar Menor están formadas por rocas de origen:</p> <p>a) kárstico b) sedimentario c) volcánico d) calizo</p>
<p>21. La masa de aire "Polar continental" que afecta en ocasiones a la Península Ibérica durante el invierno es:</p> <p>a) fría y húmeda b) seca y muy fría c) muy húmeda d) seca y cálida</p>	<p>22. La sequía estival del clima mediterráneo peninsular se debe a la influencia del:</p> <p>a) anticiclón de las Azores b) frente cálido africano c) frente polar ártico d) frente cálido austral</p>



X OLIMPIADA DE GEOGRAFÍA
COMUNIDAD AUTÓNOMA DE LA REGIÓN DE MURCIA
28 FEBRERO 2020

<p>29. ¿Cuántos habitantes tiene actualmente la Región de Murcia?</p> <p>a) 1.487.698 b) 2.580.511 c) 3.957.419 d) 501.907</p>	<p>30. El recuento individualizado de la población de un país en un momento determinado se denomina:</p> <p>a) padrón municipal b) registro civil c) registro municipal d) censo</p>
<p>23. Entre los Parques Regionales de la Región de Murcia se encuentran:</p> <p>a) Cuatro Calas, Sierra Espuña y Barranco de Gebas b) Cañon de Almadenes, El Valle y Carrascoy, y Sierra del Carche c) Salinas y Arenales de San Pedro, Sierra Espuña y Sierra del Carche d) Cabo Cope y Puntas de Calnegre, Cañaverosa y Cabezo Gordo</p>	<p>24. Una vertiente hidrográfica está integrada por:</p> <p>a) el territorio cuyas aguas vierten a un río principal b) el territorio donde están todos los embalses de un mismo río. c) las cuencas fluviales cuyas aguas vierten a un mismo mar. d) las cuencas fluviales que vierten a diferentes mares</p>
<div style="border: 1px solid black; width: 100%; height: 100%;"></div>	<p>25. La pirámide de la izquierda corresponde a un país con población en:</p> <p>a) Progresión b) Regresión c) Expansión d) a y b son correctas</p> <p>26. ¿Cuántas provincias tiene la comunidad autónoma de Andalucía?</p> <p>a) 9 b) 6 c) 7 d) 8</p>
<p>27. La tasa de mortalidad infantil relaciona:</p> <p>a) número de muertes de menores de un año en un período y el total de nacidos vivos del mismo período, por mil. b) número de muertes de menores de cinco años y el total de nacidos vivos del mismo periodo, por mil c) número de muertes de menores de catorce años y el número de muertes de menores de un año, por mil d) ninguna es correcta</p>	<p>28. La densidad de población relaciona:</p> <p>a) la población de una zona con su superficie en km² b) la población total que vive en un municipio c) los km² que tiene un municipio respecto al total nacional d) la población joven y adulta de una misma zona.</p>

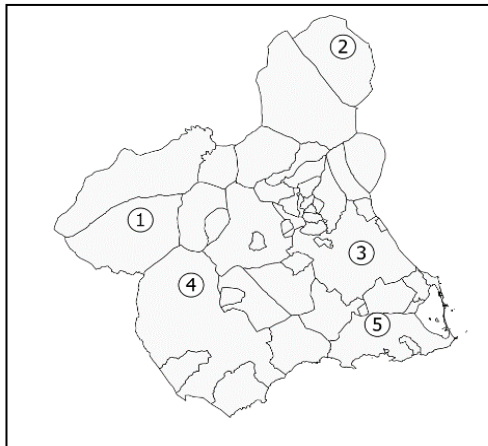
X OLIMPIADA DE GEOGRAFÍA
COMUNIDAD AUTÓNOMA DE LA REGIÓN DE MURCIA
28 FEBRERO 2020

<p>29. La industria de transformados metálicos en España se concentra dentro del triángulo:</p> <p>a) Murcia-Valencia-Albacete b) Sevilla-Madrid-Almería c) Coruña-Valladolid-Santander d) Madrid-Barcelona-País Vasco</p>	<p>30. Actualmente, en España el transporte interior de pasajeros y mercancías se realiza principalmente por:</p> <p>a) ferrocarril b) avión c) barco d) carretera</p>
<p>31. El paisaje agrario de Extremadura se caracteriza por el dominio de la ganadería:</p> <p>a) extensiva en dehesas. b) extensiva en granjas c) intensiva en granjas d) ovina y vacuna principalmente</p>	<p>32. Las pequeñas explotaciones agrarias son las que tienen una superficie:</p> <p>a) > 10 ha. b) > 15 ha. c) Entre 10 y 15 ha. d) < 10 ha.</p>
<p>33. El poblamiento rural concentrado se extiende por toda España aunque predomina en :</p> <p>a) la vertiente cantábrica b) Galicia c) Asturias d) el interior peninsular</p>	<p>34. La trilogía mediterránea está compuesta por:</p> <p>a) cereales, vid y olivo b) cereales, manzano y algarrobo c) algarrobo, vid y manzano d) fresas, arroz y olivo</p>
<p>35. Los cultivos hidropónicos son cultivos que se desarrollan sin:</p> <p>a) agua b) luz c) suelo d) oxígeno</p>	
<p>36. La red de transportes que aparece en la imagen de la derecha muestra una estructura:</p> <p>a) longitudinal b) alargada c) básicamente radial d) estratificada</p>	
<p>37. El modelo turístico tradicional implantado en la década de 1960 fue el turismo:</p> <p>a) de cruceros b) de sol y playa c) de interior d) sanitario</p>	<p>38. Las áreas turísticas de alta densidad en España son:</p> <p>a) Islas Baleares, Islas Canarias y la costa Mediterránea b) Islas Baleares y la Costa Cantábrica c) La costa Cantábrica, Galicia y el País Vasco d) Islas Canarias y Oeste de Andalucía</p>
<p>39. En España se considera ciudad los núcleos de población con más de:</p> <p>a) 200 habitantes b) 1.000 habitantes c) 10.000 habitantes d) 5.000 habitantes</p>	<p>40. A nivel estatal Madrid y Barcelona se consideran:</p> <p>a) metrópolis nacionales b) metrópolis regionales c) metrópolis mundiales d) metrópolis subregionales</p>

X OLIMPIADA DE GEOGRAFÍA
 COMUNIDAD AUTÓNOMA DE LA REGIÓN DE MURCIA
 28 FEBRERO 2020

<p>41. La teoría de los lugares centrales y sus áreas de influencia urbana se debe a:</p> <p>a) Malthus b) Pierre George c) Paul Villa d) Christaller</p>	<p>42. La morfología urbana está influenciada por:</p> <p>a) la situación y emplazamiento b) el trazado de las calles c) el tipo de edificios e) todas son verdaderas</p>
<p>43. ¿A qué tipo de estructura urbana responde la imagen de la derecha?</p> <p>a) trazado musulmán b) casco histórico c) ensanche d) ciudad lineal</p>	
<p>44. Cuál es el municipio con mayor extensión en la Región de Murcia?</p> <p>a) Cartagena b) Caravaca de la Cruz c) Lorca d) Murcia</p>	
	<p>45. ¿Qué tipo de plano urbano es el que aparece representado en la imagen de la derecha?</p> <p>a) Irregular b) Regular en damero c) Regular radial d) Regular lineal</p>
	<p>46. ¿Con cuántas provincias limita la Región de Murcia?</p> <p>a) 3 b) 4 c) 5 d) 6</p>
<p>47. El censo de población en España se actualiza cada:</p> <p>a) cinco años b) diez años c) veinte años d) año</p>	<p>48. Las siglas PGOU significan</p> <p>a) Plan Genérico de Orden Urbano b) Planificación General Orden Urbano c) Plan Genérico de Ordenación Urbana d) Plan General de Ordenación Urbana</p>

X OLIMPIADA DE GEOGRAFÍA
COMUNIDAD AUTÓNOMA DE LA REGIÓN DE MURCIA
28 FEBRERO 2020



49. Según el mapa de la izquierda, a qué municipios pertenece cada número:

a) 1. Cehegín, 2. Yecla, 3. Murcia, 4. Lorca y 5. Cartagena.

b) 1. Caravaca, 2. Yecla, 3. Murcia, 4. Lorca y 5. Cartagena.

c) 1. Calasparra, 2. Jumilla, 3. Murcia, 4. Lorca, 5. Campo de Cartagena

d) 1. Calasparra, 2. Cieza, 3. Yecla, 4. La Unión, 5. Lorca.

50. .- La zona de España más afectada por los incendios forestales es:

- a) Galicia
- b) Andalucía
- c) Murcia
- d) Madrid